

DOBRO JUTRO, DOBER DAN!

DAN JE LEPŠI, ČE GA ZAČNEŠ S PESMIJO.
PRISLUHNI JI IN ZAPOJ! →

https://www.youtube.com/watch?v=mqH-igI5SRg&list=PLdczkBtAiX3WBMbvpiPhJ_1D7iAT6XXm9



Ali veste, kaj nastane, če v istem loncu zmešamo **GLASBO** in **MATEMATIKO**?



**NASTANE
GLASBENA MATEMATIKA!**











GLAVNA PRAVILA, KI JIH MORAŠ ZNATI:

CELINKA traja **4 DOBE** in je enaka **DVEM POLOVINKAM** →

POLOVINKA traja **2 DOBI** in je enaka **DVEM ČETRINKAM** →

ČETRINKA traja **1 DOBO** in je enaka **DVEM OSMINKAM** →

	=		+	
	=		+	
	=		+	




POMOČ!


To je polovinka s piko in traja **3 DOBE**.





SEDAJ PA NAPNI MOŽGANČKE IN VESELO NA DELO!

1. Seštej notne vrednosti tulipánov in seštevek zapiši v kvadratek. Glej primer.

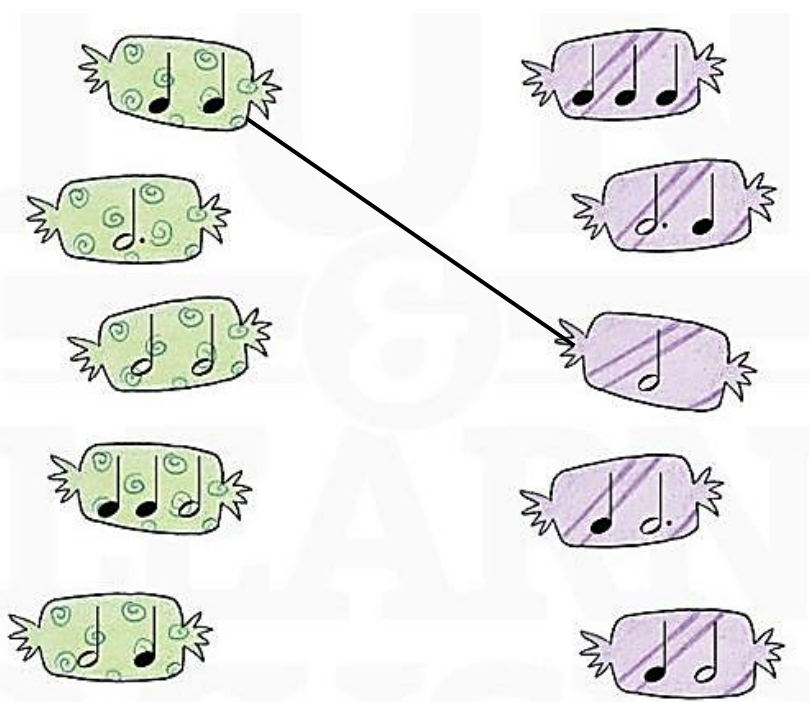
 $+$ $+$ $+$ $+$ $=$

 $+$ $+$ $+$ $+$ $+$ $=$

 $+$ $+$ $+$ $+$ $=$

 $+$ $+$ $+$ $+$ $=$

2. Ustrezno poveži zelene bombone z vijoličnimi. Glej primer.



3. Koliko dob trajajo notne vrednosti? V domine nariši pikice, kot kaže prvi primer.

4. Obkroži toliko predmetov, kolikor dob traja določena pavza. Glej prvi primer.
