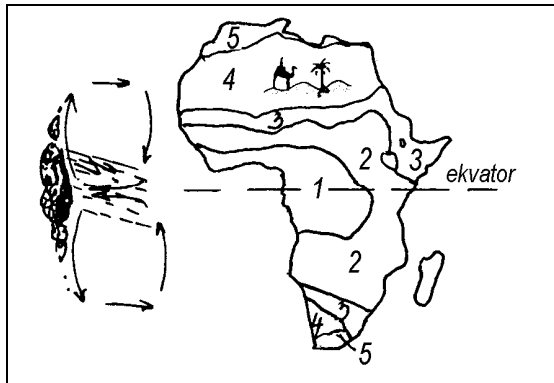


Afrika splošno

1. Dopiši ustrezne pojme. Pomagaš si lahko tudi s sliko. (5 t)



- Najbolj namočeno podnebje je označeno s številko _____. (1 t)
- Navedi vzrok, zakaj ima območje, ki si ga navedel pri točki a, največ padavin? (2 t)
- S številko 3 je označeno _____ podnebje. (1 t)
- S številko 4 je označeno _____ podnebje. (1 t)


2. Kateri dejavniki vplivajo na to, da je v severni Afriki eno najbolj suhih območij na svetu? Izmed naštetih izberi dva? (2 t)

- bližina ekvatorja
- na tem območju se zrak v glavnem spušča in ohlaja
- na tem območju gre za spuščanje zraka in njegovo segrevanje
- bližina severnega povratnika

Severozahodna Afrika

1. S sliko skladno napiši, katere so glavne gospodarske dejavnosti v območjih 1, 2 in 3. (2 t)

- _____
- _____
- _____



Severovzhodna Afrika



- Kako se imenuje prekop, ki povezuje Rdeče in Sredozemsko morje? (1 t)
- Zakaj je delta Nila eno najbolj rodovitnih in obdelanih območij na svetu oz. v Egiptu? (2 t)

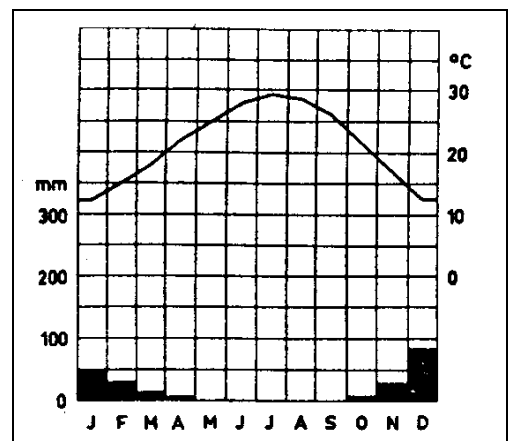
3. Oglej si klimogram Kaira in opiši:

a. kateri mesec ima največ dežja; (1 t)

b. kolikšna je razlika med najnižjo in najvišjo poprečno temperaturo; (1 t)

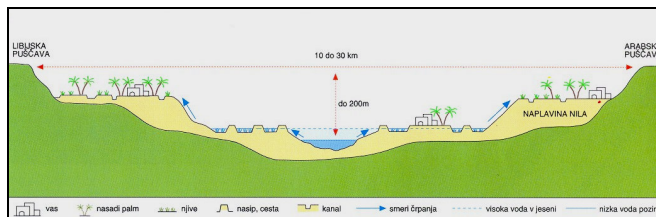
c. količino padavin in pojasni, ali jih je veliko/malo; (1 t)

d. kakšnemu tipu podnebja, bi prisodil klimogram? (2 t)



4. Kaj prikazuje spodnja slika? Obkroži pravilni odgovor. (1 t)

- a) Nilovo dolino v zgornjem toku
- b) Nilovo dolino v srednjem toku
- c) Nilovo dolino v spodnjem toku




5. Asuanski jez na Nilu je med največjimi na svetu. Kakšne posledice so nastale po zgraditvi tega jez? Ugotovi, koliko odgovorov je pravilnih in jih obkroži. (1 t)

- a) Nil ne poplavlja več
- b) Egipt mora zaradi tega uvažati električno energijo
- c) Zaradi tega so se razmahnili razni vodni športi

Zahodna Afrika

1. Dobro si oglej spodnjo sliko.



a) Zakaj ima območje ob Gvinejskem zalivu največ padavin (dva vzroka)? (1 t)

b) Kakšne prsti najdemo med gorovjem Jos in Saharo (poglej sliko, kje je to območje)? (1 t)

Vzhodna Afrika

1. Kateri od navedenih držav nista v Vzhodni Afriki? (1 t)

- a) Kenija
- b) Tanzanija
- c) Nigerija
- d) Ruanda
- e) Angola
- f) Somalija


2. Kateri enoti sestavljata vzhodno Afriko? (1 t)

3. V čem so razlike med tropskim deževnim gozdom in svetlim savanskim gozdom? (2 t)

4. V čem je razlika med samoprehranitvenim in tržnim poljedelstvom. Kakšno poljedelstvo prevladuje v vzhodni Afriki. Utemelji odgovor. (2 t)

5. Kaj je to industrija višje tehnologije? Zakaj je v vzhodni Afriki skoraj ni? Utemelji odgovor. (2 t)

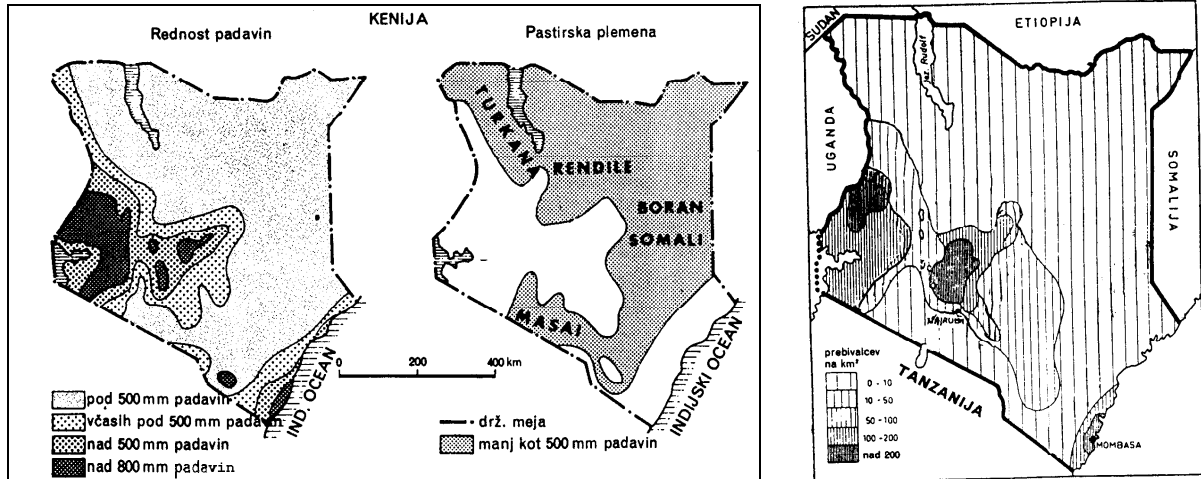
6. V Vzhodni Afriki je podnebje odvisno od več dejavnikov. Glede na spodnjo sliko obkroži pravilni odgovor. (1 t)



- a) več padavin ima severno pobočje
- b) več padavin ima južno pobočje

Označi smer vetrov s puščico! (1 t)

7. Dobro si oglej spodnje karte.



- a) Kateri del Kenije je najgosteje naseljen? (1 t)
- b) Ali količina padavin vpliva na gostoto poselitve v Keniji? (1 t)
- c) V kakšnih naravnih razmerah živijo domačinska plemena, ki so omenjena na drugi karti? (1 t)

8. V prazne okvirčke vpiši približne letne padavine in glavne manjkajoče vegetacijske oblike (tipe rastja). (4 t)

ŠTEV. VLAŽNIH (SUHIH) MESECEV	10-12 (0-2)	9-10 (2-3)	7-9 (3-5)	3-5 (6-8-5)	2-3 (8-5-10)	1 (11)	0 (12)
POVPREČNE LETNE PADAVINE							
SKICA POENOSTAVLJENEGA PROFILA PRIRODNEGA RASTJA							
GLAVNE KULTURNE RASTLINE	gumijevc tropski les	oljna palma kakaovec kavovec	jam	bombaž, praso, zem. orešček	zem. orešček		
GLAVNE VEGETACIJSKE OBLIKE		monsunski gozd		suha savana	savana s trnastim rasljem	polpuščava	

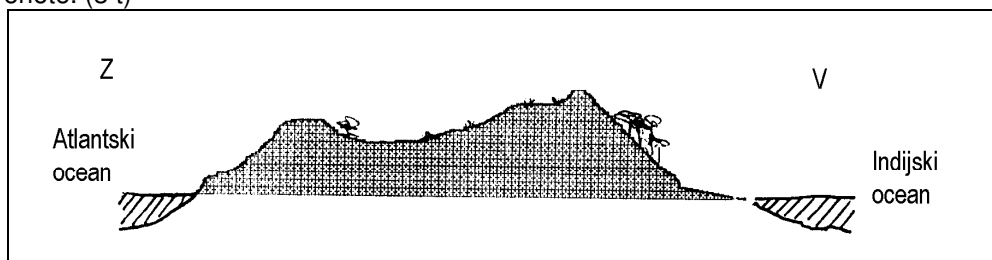
9. Pozorno preberi spodnje besedilo.

Viktorijino jezero je dobilo ime po kraljici Viktoriji. Odkritelji so bili v 16. st. portugalski misijonarji, ki so tod širili krščanstvo. Njihovo poročilo o odkritju je leta 1770 potrdil Škot Bruce. Tu izvira Beli Nil. Viktorijino jezero leži ob ekvatorju na meji med Ugando, Kenijo in Tanzanijo. Največja globina je 80 m. Vrhna voda se stalno meša s tisto v spodnjih plasteh (polimiktično jezero). Po velikosti je tretje na svetu. Jezero Tanganjika je udorno in meromiktično jezero (voda v jezeru se ne premeša), toda kljub temu živi v vrhnjih plasteh jezera več vrst rib kot v kateremukoli jezeru na svetu, le v jezeru Malavi jih je še toliko. Največja globina jezera je 1470 m.

- Koliko jezer omenja zgornji tekst? (1 t)
 - Napiši tri razlike med Viktorijinim jezerom in jezerom Tanganjika. (1 t)
 - Kakšen je po tvojem mnenju gospodarski pomen omenjenih jezer? (1 t)
10. Zakaj ima reka Kongo vse leto dokaj izenačen vodni režim (=približno enak pretok vode skozi vse leto)? (1 t)
11. Mangrova je: (1 t)
- predvsem ob Gvinejskem zalivu
 - ob obali Sredozemskega morja
 - ob obrobju Kongove kotline
12. Srednja Afrika ima nekaj nad 60 milijonov prebivalcev in 6,67 milijona km². Ali je gosto naseljena? (1 t)

Južna Afrika

- Obkroži države, ki ne spadajo v Južno Afriko. (2 t)
 - Angola
 - Namibija
 - Etiopija
 - Bocvana
 - Nigerija
2. Na shematični prerezu Južne Afrike v smeri V-Z napiši ustrezne pojme, ki označujejo relief ali naravne enote. (3 t)



3. Po sliki ugotovi:

- Katero območje (1 ali 2) ima več padavin? (1 t)
- Kakšen morski tok je Benguelski morski tok? (1 t)
- Kakšen je JZ veter (suh ali vlažen)? (1 t)
- Kako vpliva na podnebje Benguelski morski tok? (1 t)

