





Odkrivamo like

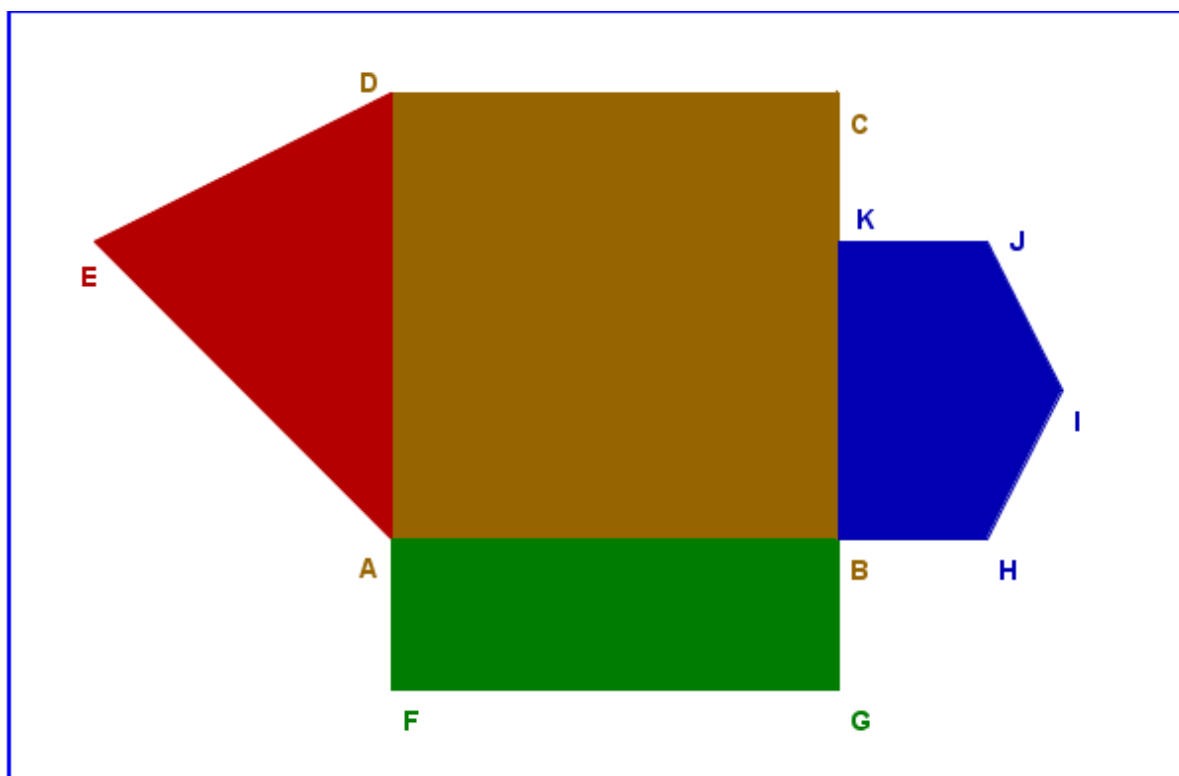
Naloga 1. Na sredino modrega okvirja nariši rjav kvadrat in označi njegova oglišča z A , B , C in D . Oglišče A naj bo spodaj levo, ostala pa naj sledijo v nasprotni smeri urinega kazalca. Nato nariši rdeč trikotnik z oglišči A , D , in E . Oglišče E naj bo levo od kvadrata. Na desni strani kvadrata naj bo moder petkotnik z oglišči B , H , I , J in K . Točka K naj leži na stranici BC . Za konec nariši pod kvadratom še zelen pravokotnik z oglišči F , G , B in A .



Naloga 2. Poimenuj like na sliki. Koliko stranic in koliko oglišč imajo?



Naloga 1.



Naloga 2.


Kvadrat, 4 stranice in 4 oglišča



Pravokotnik, 4 stranice in 4 oglišča



Osemkotnik, 8 stranic in 8 oglišč



Trikotnik, 3 stranice in 3 oglišča



Štirikotnik, 4 stranice in 4 oglišča