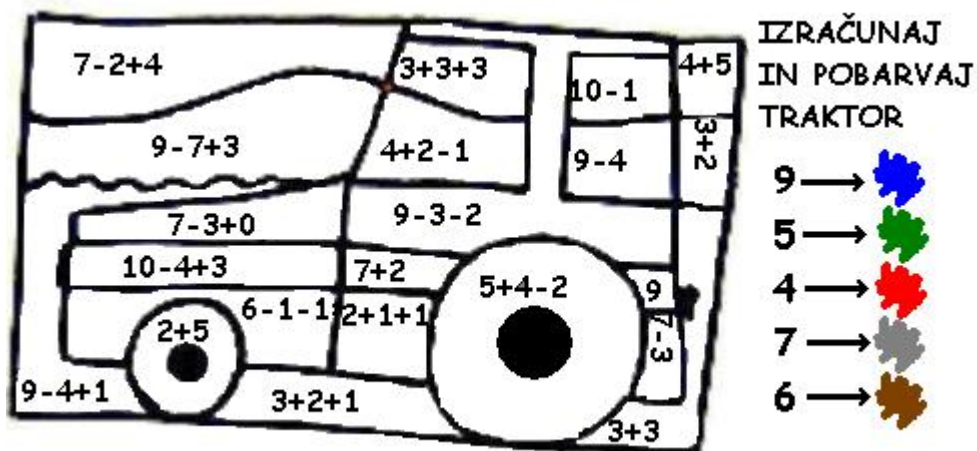


## SESTAVLJENI RAČUNI DO 10


Naloga 1.



Slika 1: TRAKTOR

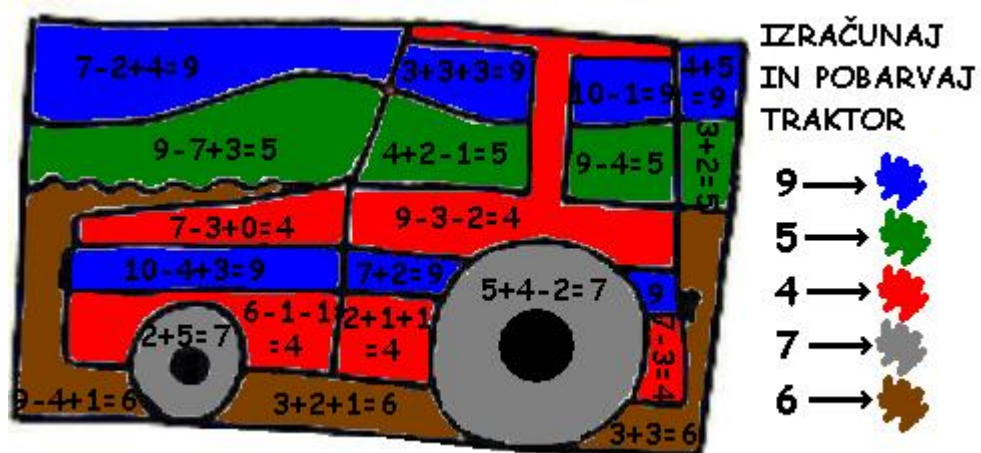
Naloga 2. PREŠTEJ, KOLIKO PSIČKOV JE BILO NA POLICI V SREDO, KOLIKO V ČETRTEK IN KOLIKO V PETEK. KOLIKO PSIČKOV SO PRODALI V ČETRTEK IN KOLIKO V PETEK? DOPOLNI RAČUN.

$$8 - \square - \square = 1$$




Slika 2: ŠTEVILO PSIČKOV V TRGOVINI

Naloga 1.



Slika 3: NIČ LAŽJEGA!

Naloga 2. RAČUN SE GLASI  $8 - 1 - 6 = 1$ . V ČETRTEK SO PRODALI ENEGA PSIČKA, V PETEK PA 6 PSIČKOV.



Slika 4: ME BOŠ KUPIL? TAKO SAM SEM.